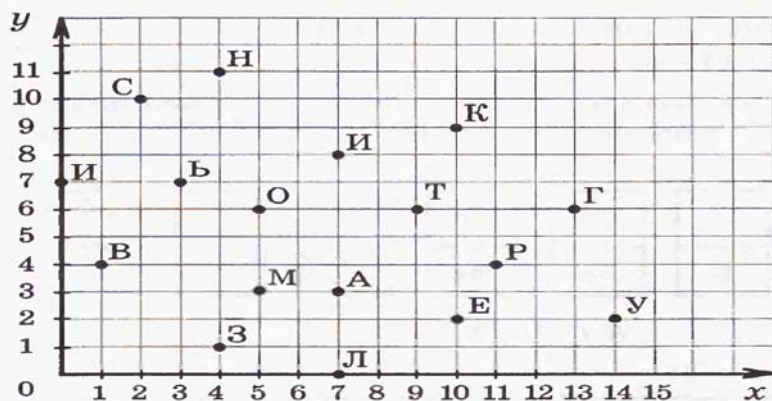


Определи координаты точек координатного угла и расшифруй названия морских терминов. Что они означают?



(10; 9)	(0; 7)	(7; 0)	(3; 7)	(1; 4)	(7; 3)	(9; 6)	(10; 2)	(11; 4)



(9; 6)	(11; 4)	(7; 3)	(1; 4)	(10; 2)	(11; 4)	(4; 1)

(13; 6)	(7; 3)	(7; 0)	(7; 8)	(5; 6)	(4; 11)

(14; 2)	(4; 1)	(10; 2)	(7; 0)

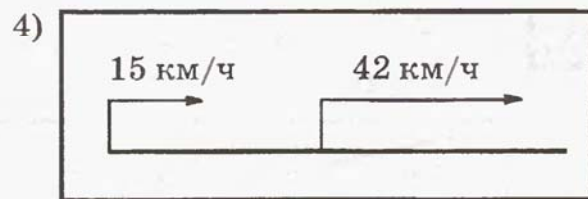
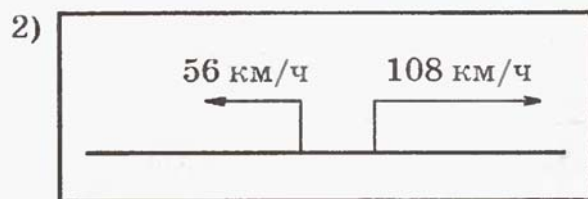
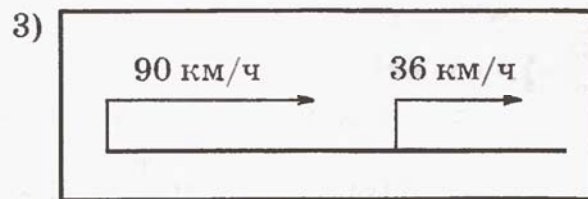

Запиши с помощью фигурных скобок множество кратных для каждого из чисел: 4, 5, 14, 16, 21.

Образец ответа: $K(9) = \{9, 18, 27, 36, \dots\}$.

Запиши с помощью фигурных скобок множество делителей каждого из чисел: 6, 7, 12, 17, 32, 42, 81. Сколько делителей у каждого из них? Может ли у числа быть меньше двух делителей?

Образец ответа: $D(10) = \{1, 2, 5, 10\}$, 4 делителя.

На рисунке показаны различные случаи движения объектов:



Найди для каждого случая скорость сближения или скорость удаления. На сколько километров изменится расстояние между объектами через 3 ч после начала движения, если встречи за это время не произойдет?