

Тренировочная работа по МАТЕМАТИКЕ

9 класс

14 мая 2018 года

Вариант МА90503

Выполнена: ФИО _____ класс _____

Инструкция по выполнению работы

Работа состоит из двух модулей: «Алгебра» и «Геометрия». Всего в работе 26 заданий. Модуль «Алгебра» содержит семнадцать заданий: в части 1 — четырнадцать заданий; в части 2 — три задания. Модуль «Геометрия» содержит девять заданий: в части 1 — шесть заданий; в части 2 — три задания.

На выполнение экзаменационной работы по математике отводится 3 часа 55 минут (235 минут).

Ответы к заданиям 2, 3, 14 запишите в виде одной цифры, которая соответствует номеру правильного ответа.

Для остальных заданий части 1 ответом является число или последовательность цифр. Если в ответе получена обыкновенная дробь, обратите её в десятичную.

Решения заданий части 2 и ответы к ним запишите на отдельном листе бумаги. Задания можно выполнять в любом порядке, начиная с любого модуля. Текст задания переписывать не надо, необходимо только указать его номер.

Сначала выполняйте задания части 1. Начать советуем с тех заданий, которые вызывают у Вас меньше затруднений, затем переходите к другим заданиям. Для экономии времени пропускайте задание, которое не удаётся выполнить сразу, и переходите к следующему. Если у Вас останется время, Вы сможете вернуться к пропущенным заданиям.

При выполнении части 1 все необходимые вычисления, преобразования выполняйте в черновике. Записи в черновике не учитываются при оценивании работы. Если задание содержит рисунок, то на нём непосредственно в тексте работы можно выполнять необходимые Вам построения. Рекомендуем внимательно читать условие и проводить проверку полученного ответа.

При выполнении работы Вы можете воспользоваться справочными материалами, выданными вместе с вариантом.

Баллы, полученные Вами за выполненные задания, суммируются. Постарайтесь выполнить как можно больше заданий и набрать наибольшее количество баллов.

Желаем успеха!

Часть 1

Ответами к заданиям 1–20 являются цифра, число или последовательность цифр.

Модуль «Алгебра»

1 Найдите значение выражения $\left(\frac{9}{17} - \frac{11}{34}\right) \cdot \frac{17}{2}$.

Ответ: _____.

2 В таблице даны результаты забега девочек 8 класса на дистанцию 60 м. Зачёт выставляется при условии, что показан результат не хуже 10,8 с.

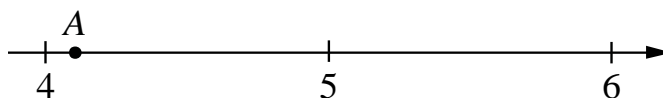
Номер дорожки	I	II	III	IV
Время (в с)	11,3	10,6	12,1	10,4

Укажите номера дорожек, по которым бежали девочки, получившие зачёт.

- 1) I, III
- 2) только IV
- 3) II, IV
- 4) только II

Ответ:

3 Одно из чисел $\sqrt{17}$, $\sqrt{22}$, $\sqrt{28}$, $\sqrt{32}$ отмечено на прямой точкой А.



Какое это число?

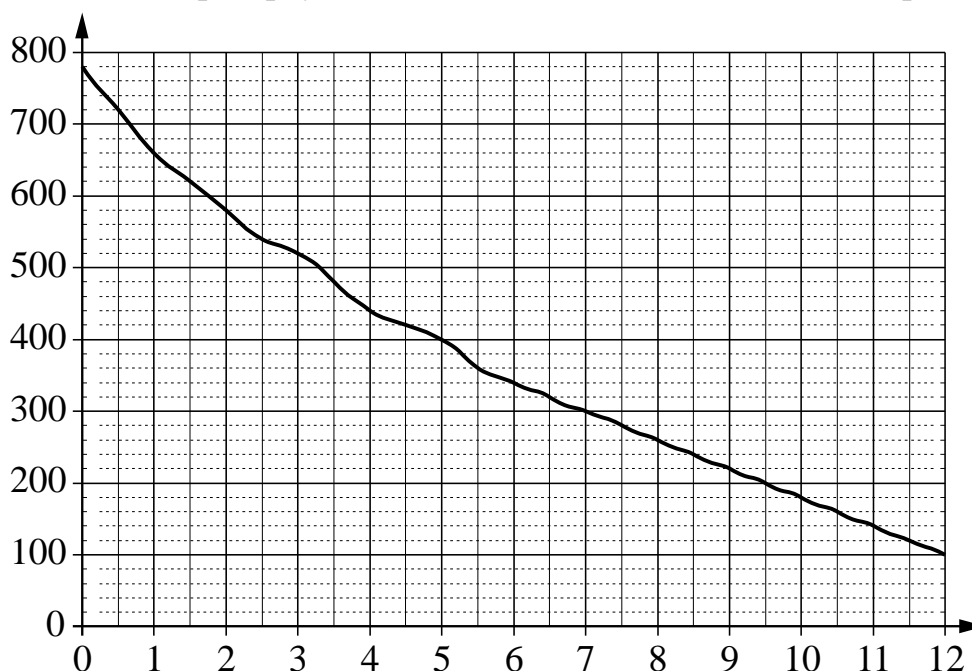
- 1) $\sqrt{17}$
- 2) $\sqrt{22}$
- 3) $\sqrt{28}$
- 4) $\sqrt{32}$

Ответ:

4 Найдите значение выражения $\frac{(2 \cdot 10)^5}{2^2 \cdot 10^4}$.

Ответ: _____.

5 На графике изображена зависимость атмосферного давления от высоты над уровнем моря. На горизонтальной оси отмечена высота над уровнем моря в километрах, на вертикальной — давление в миллиметрах ртутного столба. Определите по графику, на какой высоте атмосферное давление равно 220 миллиметрам ртутного столба. Ответ дайте в километрах.



Ответ: _____.

6 Решите уравнение $4x^2 - 20x = 0$.

Если уравнение имеет более одного корня, в ответе запишите больший из корней.

Ответ: _____.

7 Для приготовления фарша взяли говядину и свинину в отношении 22:3. Сколько процентов фарша составляет говядина?

Ответ: _____.

8 На диаграмме показано содержание питательных веществ в сгущённом молоке. Определите по диаграмме, содержание каких веществ превосходит 25 %.



*К прочему относятся вода, витамины и минеральные вещества.

- 1) белки
- 2) жиры
- 3) углеводы
- 4) прочее

Запишите номера выбранных вариантов ответов без пробелов, запятых и других дополнительных символов.

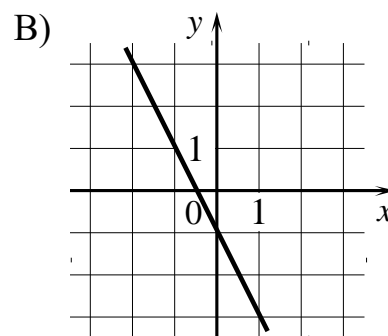
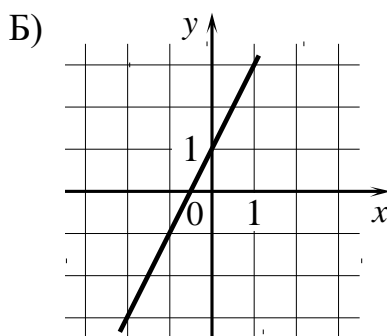
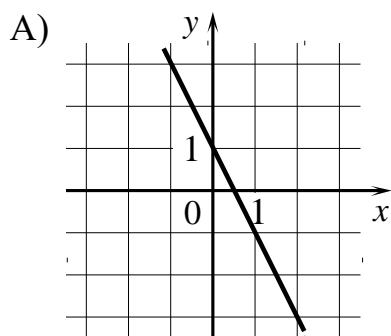
Ответ: _____.

9 В лыжных гонках участвуют 11 спортсменов из России, 6 спортсменов из Норвегии и 3 спортсмена из Швеции. Порядок, в котором спортсмены стартуют, определяется жребием. Найдите вероятность того, что первым будет стартовать спортсмен **не** из России.

Ответ: _____.

- 10** Установите соответствие между графиками функций и формулами, которые их задают.

ГРАФИКИ



ФОРМУЛЫ

1) $y = -2x - 1$

2) $y = -2x + 1$

3) $y = 2x + 1$

В таблице под каждой буквой укажите соответствующий номер.

Ответ:

А	Б	В

- 11** Последовательность (b_n) задана условиями

$$b_1 = 7, b_{n+1} = -3 \cdot \frac{1}{b_n}.$$

Найдите b_3 .

Ответ: _____.

- 12** Найдите значение выражения $\frac{a^2 - 36b^2}{6ab} : \left(\frac{1}{6b} - \frac{1}{a}\right)$ при $a = 5\frac{5}{17}$, $b = 5\frac{2}{17}$.

Ответ: _____.

13 Чтобы перевести значение температуры по шкале Цельсия в шкалу Фаренгейта, пользуются формулой $t_F = 1,8t_C + 32$, где t_C — температура в градусах Цельсия, t_F — температура в градусах Фаренгейта. Скольким градусам по шкале Фаренгейта соответствует 80 градусов по шкале Цельсия?

Ответ: _____.

14 Укажите решение системы неравенств


$$\begin{cases} -10 + 2x > 0, \\ 7 - 6x > -5. \end{cases}$$

- 1) нет решений
- 2) $(5; +\infty)$
- 3) $(2; 5)$
- 4) $(-\infty; 2)$

Ответ:

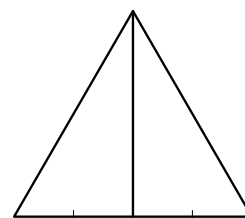
Модуль «Геометрия»

15 Найдите угол, который минутная стрелка описывает за 23 минуты. Ответ дайте в градусах.



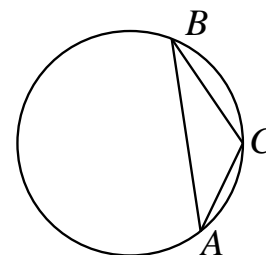
Ответ: _____.

16 Медиана равностороннего треугольника равна $13\sqrt{3}$. Найдите сторону этого треугольника.



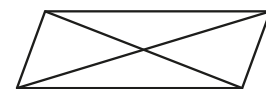
Ответ: _____.

- 17** В треугольнике ABC угол C равен 120° , $AB = 22\sqrt{3}$. Найдите радиус окружности, описанной около этого треугольника.



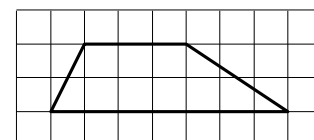
Ответ: _____.

- 18** Диагонали параллелограмма равны 9 и 28, а угол между ними равен 30° . Найдите площадь этого параллелограмма.



Ответ: _____.

- 19** На клетчатой бумаге с размером клетки 1×1 изображена трапеция. Найдите её площадь.



Ответ: _____.

- 20** Какое из следующих утверждений верно?

- 1) Боковые стороны любой трапеции равны.
- 2) Площадь прямоугольника равна произведению длин его смежных сторон.
- 3) Центр описанной около треугольника окружности всегда лежит внутри этого треугольника.

В ответе запишите номер выбранного утверждения.

Ответ: _____.

Часть 2

При выполнении заданий 21–26 используйте отдельный лист бумаги. Сначала укажите номер задания, а затем запишите его решение и ответ. Пишите чётко и разборчиво.

Модуль «Алгебра»

21 Найдите значение выражения $33a - 23b + 71$, если $\frac{3a - 4b + 8}{4a - 3b + 8} = 9$.

22 Свежие фрукты содержат 95 % воды, а высушенные — 22 %. Сколько сухих фруктов получится из 858 кг свежих фруктов?

23 Постройте график функции

$$y = |x^2 - 6x + 5|.$$

Какое наибольшее число общих точек может иметь график данной функции с прямой, параллельной оси абсцисс?

Модуль «Геометрия»

24 Прямая, параллельная основаниям трапеции $ABCD$, пересекает её боковые стороны AB и CD в точках E и F соответственно. Найдите длину отрезка EF , если $AD = 50$, $BC = 30$, $CF : DF = 7 : 3$.

25 В треугольнике ABC с тупым углом BAC проведены высоты BB_1 и CC_1 . Докажите, что треугольники AB_1C_1 и ABC подобны.

26 Окружности радиусов 45 и 55 касаются внешним образом. Точки A и B лежат на первой окружности, точки C и D — на второй. При этом AC и BD — общие касательные окружностей. Найдите расстояние между прямыми AB и CD .

Тренировочная работа по МАТЕМАТИКЕ

9 класс

14 мая 2018 года

Вариант МА90504

Выполнена: ФИО _____ класс _____

Инструкция по выполнению работы

Работа состоит из двух модулей: «Алгебра» и «Геометрия». Всего в работе 26 заданий. Модуль «Алгебра» содержит семнадцать заданий: в части 1 — четырнадцать заданий; в части 2 — три задания. Модуль «Геометрия» содержит девять заданий: в части 1 — шесть заданий; в части 2 — три задания.

На выполнение экзаменационной работы по математике отводится 3 часа 55 минут (235 минут).

Ответы к заданиям 2, 3, 14 запишите в виде одной цифры, которая соответствует номеру правильного ответа.

Для остальных заданий части 1 ответом является число или последовательность цифр. Если в ответе получена обыкновенная дробь, обратите её в десятичную.

Решения заданий части 2 и ответы к ним запишите на отдельном листе бумаги. Задания можно выполнять в любом порядке, начиная с любого модуля. Текст задания переписывать не надо, необходимо только указать его номер.

Сначала выполняйте задания части 1. Начать советуем с тех заданий, которые вызывают у Вас меньше затруднений, затем переходите к другим заданиям. Для экономии времени пропускайте задание, которое не удаётся выполнить сразу, и переходите к следующему. Если у Вас останется время, Вы сможете вернуться к пропущенным заданиям.

При выполнении части 1 все необходимые вычисления, преобразования выполняйте в черновике. Записи в черновике не учитываются при оценивании работы. Если задание содержит рисунок, то на нём непосредственно в тексте работы можно выполнять необходимые Вам построения. Рекомендуем внимательно читать условие и проводить проверку полученного ответа.

При выполнении работы Вы можете воспользоваться справочными материалами, выданными вместе с вариантом.

Баллы, полученные Вами за выполненные задания, суммируются. Постарайтесь выполнить как можно больше заданий и набрать наибольшее количество баллов.

Желаем успеха!

Часть 1

Ответами к заданиям 1–20 являются цифра, число или последовательность цифр.

Модуль «Алгебра»

1 Найдите значение выражения $\left(\frac{17}{26} + \frac{11}{13}\right) \cdot \frac{17}{6}$.

Ответ: _____.

2 В таблице даны результаты забега мальчиков 8 класса на дистанцию 60 м. Зачёт выставляется при условии, что показан результат не хуже 10,5 с.

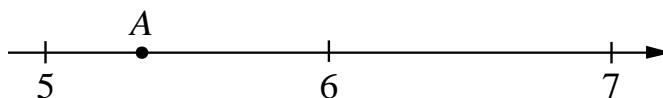
Номер дорожки	I	II	III	IV
Время (в с)	9,8	10,6	12,1	10,4

Укажите номера дорожек, по которым бежали мальчики, получившие зачёт.

- 1) только I
- 2) только III
- 3) II, III
- 4) I, IV

Ответ:

3 Одно из чисел $\sqrt{28}$, $\sqrt{32}$, $\sqrt{39}$, $\sqrt{47}$ отмечено на прямой точкой А.



Какое это число?

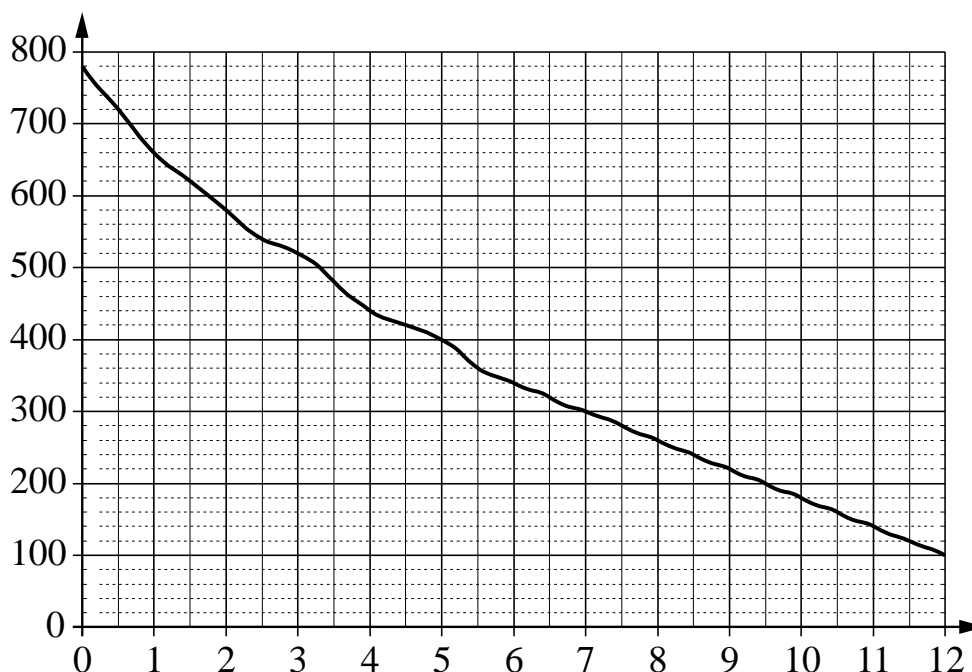
- 1) $\sqrt{28}$
- 2) $\sqrt{32}$
- 3) $\sqrt{39}$
- 4) $\sqrt{47}$

Ответ:

4 Найдите значение выражения $\frac{(4 \cdot 5)^7}{4^5 \cdot 5^7}$.

Ответ: _____.

5 На графике изображена зависимость атмосферного давления от высоты над уровнем моря. На горизонтальной оси отмечена высота над уровнем моря в километрах, на вертикальной — давление в миллиметрах ртутного столба. Определите по графику, на какой высоте атмосферное давление равно 360 миллиметрам ртутного столба. Ответ дайте в километрах.



Ответ: _____.

6 Решите уравнение $5x^2 - 10x = 0$.

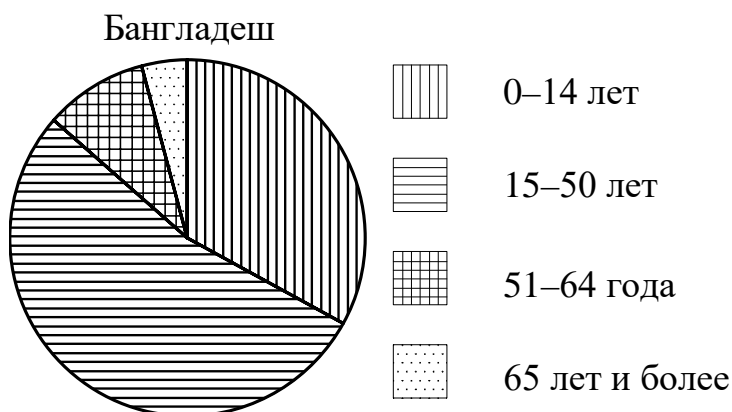
Если уравнение имеет более одного корня, в ответе запишите больший из корней.

Ответ: _____.

7 Для приготовления фарша взяли говядину и свинину в отношении 11:39. Сколько процентов фарша составляет свинина?

Ответ: _____.

8 На диаграмме показан возрастной состав населения Бангладеш. Определите по диаграмме, доли населения каких возрастов составляют более 25 % от всего населения.



- 1) 0–14 лет
- 2) 15–50 лет
- 3) 51–64 года
- 4) 65 лет и более

Запишите номера выбранных вариантов ответов без пробелов, запятых и других дополнительных символов.

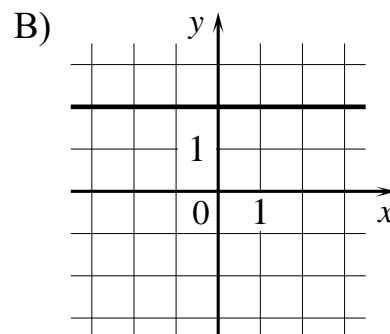
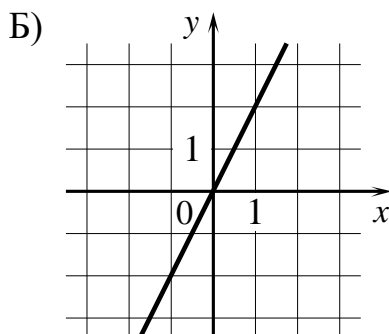
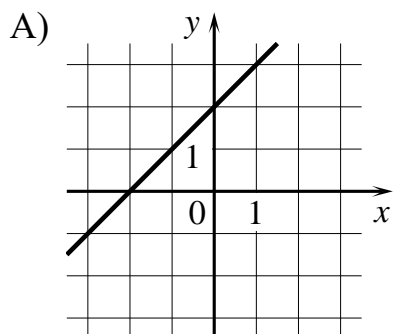
Ответ: _____.

9 В лыжных гонках участвуют 11 спортсменов из России, 6 спортсменов из Норвегии и 3 спортсмена из Швеции. Порядок, в котором спортсмены стартуют, определяется жребием. Найдите вероятность того, что первым будет стартовать спортсмен из Норвегии или Швеции.

Ответ: _____.

- 10** Установите соответствие между графиками функций и формулами, которые их задают.

ГРАФИКИ



ФОРМУЛЫ

1) $y = 2x$

2) $y = x + 2$

3) $y = 2$

В таблице под каждой буквой укажите соответствующий номер.

Ответ:

А	Б	В

- 11** Последовательность (b_n) задана условиями

$$b_1 = -6, b_{n+1} = -3 \cdot \frac{1}{b_n}.$$

Найдите b_3 .

Ответ: _____.

- 12** Найдите значение выражения $\frac{a^2 - b^2}{ab} : \left(\frac{1}{b} - \frac{1}{a}\right)$ при $a = 1\frac{1}{11}$, $b = 8\frac{10}{11}$.

Ответ: _____.

- 13** Чтобы перевести значение температуры по шкале Цельсия в шкалу Фаренгейта, пользуются формулой $t_F = 1,8t_C + 32$, где t_C — температура в градусах Цельсия, t_F — температура в градусах Фаренгейта. Скольким градусам по шкале Фаренгейта соответствует -100 градусов по шкале Цельсия?

Ответ: _____.

- 14** Укажите решение системы неравенств


$$\begin{cases} -36 + 4x < 0, \\ 5 - 4x < -3. \end{cases}$$

- 1) $(2; +\infty)$
- 2) нет решений
- 3) $(-\infty; 9)$
- 4) $(2; 9)$

Ответ:

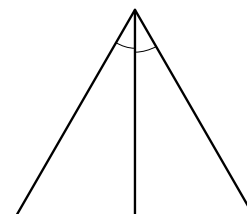
Модуль «Геометрия»

- 15** Найдите угол, который минутная стрелка описывает за 22 минуты. Ответ дайте в градусах.



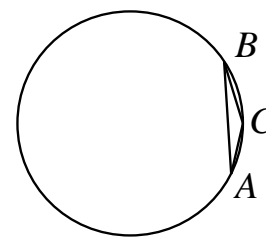
Ответ: _____.

- 16** Биссектриса равностороннего треугольника равна $8\sqrt{3}$. Найдите сторону этого треугольника.



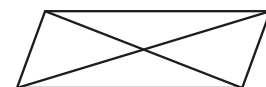
Ответ: _____.

- 17** В треугольнике ABC угол C равен 150° , $AB = 26$. Найдите радиус окружности, описанной около этого треугольника.



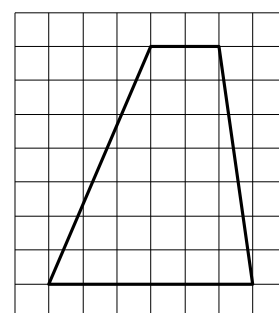
Ответ: _____.

- 18** Диагонали параллелограмма равны 7 и 32, а угол между ними равен 30° . Найдите площадь этого параллелограмма.



Ответ: _____.

- 19** На клетчатой бумаге с размером клетки 1×1 изображена трапеция. Найдите её площадь.



Ответ: _____.

- 20** Какое из следующих утверждений верно?

- 1) Две прямые, параллельные третьей прямой, перпендикулярны.
- 2) Треугольник со сторонами 1, 2, 4 существует.
- 3) Сумма острых углов прямоугольного треугольника равна 90 градусам.

В ответе запишите номер выбранного утверждения.

Ответ: _____.

Часть 2

При выполнении заданий 21–26 используйте отдельный лист бумаги. Сначала укажите номер задания, а затем запишите его решение и ответ. Пишите чётко и разборчиво.

Модуль «Алгебра»

21 Найдите значение выражения $39a - 15b + 25$, если $\frac{3a - 6b + 4}{6a - 3b + 4} = 7$.

22 Свежие фрукты содержат 85 % воды, а высушенные — 16 %. Сколько сухих фруктов получится из 420 кг свежих фруктов?

23 Постройте график функции

$$y = |x^2 - 4x + 3|.$$

Какое наибольшее число общих точек может иметь график данной функции с прямой, параллельной оси абсцисс?

Модуль «Геометрия»

24 Прямая, параллельная основаниям трапеции $ABCD$, пересекает её боковые стороны AB и CD в точках E и F соответственно. Найдите длину отрезка EF , если $AD = 35$, $BC = 21$, $CF : DF = 5 : 2$.

25 В треугольнике ABC с тупым углом ABC проведены высоты AA_1 и CC_1 . Докажите, что треугольники A_1BC_1 и ABC подобны.

26 Окружности радиусов 36 и 45 касаются внешним образом. Точки A и B лежат на первой окружности, точки C и D — на второй. При этом AC и BD — общие касательные окружностей. Найдите расстояние между прямыми AB и CD .